

История Беларуси

Инструкция по выполнению экзаменационной работы

Экзаменационная работа содержит 10 заданий. На выполнение всех заданий отводится 120 минут. Задания рекомендуется выполнять по порядку. Если какое-либо задание вызовет затруднение, перейдите к следующему. После выполнения всех заданий вернитесь к пропущенным.

Желаем успехов!

Задание 1

Только один из предложенных вариантов ответа является верным.

1.1. Основное орудие труда древних людей, которое использовалось при подсечно-огневом земледелии, – это:

- 1) мотыга;
- 2) рало;
- 3) коса;
- 4) нож;
- 5) борона-суковатка.

Ответ: _____

1.2. В 1157 г. власть в Турове принадлежала князю:

- 1) Святополку Окаянному;
- 2) Мстиславу Владимировичу;
- 3) Владимиру Мономаху;
- 4) Юрию Ярославичу;
- 5) Изяславу Ярославичу.

Ответ: _____

Задание 2

Только один из предложенных вариантов ответа является верным.

2.1. Город, в котором состоялась коронация Миндовга в 1253 г.:

- 1) Вильно;
- 2) Полоцк;
- 3) Минск;
- 4) Новогородок;
- 5) Витебск.

Ответ: _____

2.2. Городельская уния между Великим Княжеством Литовским и Польшей была заключена в:

- 1) 1385 г.;
- 2) 1392 г.;
- 3) 1401 г.;
- 4) 1413 г.;
- 5) 1569 г.

Ответ: _____

2.3. Битва под Вилькомиром (1435 г.):

- 1) стала окончательным разгромом Тевтонского ордена;
- 2) закончилась решительной победой над Золотой Ордой;
- 3) положила начало разрушительному столетию в ВКЛ;
- 4) являлась проявлением территориальных противоречий между ВКЛ и Московским государством;
- 5) являлась вершиной проявления династической борьбы и религиозных противоречий в ВКЛ.

Ответ: _____

2.4. В ВКЛ отдельные части города, находившиеся под властью магната или церковного учреждения, на жителей которых не распространялось городское самоуправление, назывались:

- 1) юридики;
- 2) кагалы;
- 3) детинцы;
- 4) посады;
- 5) универсалы.

Ответ: _____

Задание 3

Три из предложенных вариантов ответа являются верными.

3.1. Определите причины заключения Люблинской унии:

- 1) тяжелое внешнеполитическое положение ВКЛ в Ливонской войне;
- 2) желание польской шляхты получить новые земли и должности в ВКЛ;
- 3) стремление шляхты ВКЛ получить такие же политические права и привилегии, как у польской шляхты;
- 4) активизация антифеодальных выступлений в ВКЛ и Польше;
- 5) стремление православной церкви распространить свое влияние на Западную Европу;
- 6) необходимость совместной борьбы против крестоносцев и монголо-татар.

Ответ: _____

3.2. Конституцией Речи Посполитой 3 мая 1791 г. предусматривалась(-ось):

- 1) ликвидация крепостного права;
- 2) расширение прав и свобод шляхты;
- 3) создание единого правительства для ВКЛ и Польши;
- 4) разделение властей на законодательную, исполнительную и судебную;
- 5) расширение прав мещан;
- 6) выборность короля.

Ответ: _____

Задание 4

Из предложенных вариантов ответа три являются верными (для 4.1, 4.3) и два являются верными (для 4.2).

4.1. Определите последствия шляхетского восстания 1830–1831 гг. в Беларуси и Литве:

- 1) закрытие Виленского университета;
- 2) восстановление действия Конституции 1791 г.;
- 3) отмена действия Статута ВКЛ и введение в 1831 г. российского законодательства в Витебской и Могилевской губерниях;
- 4) принудительный перевод католической шляхты в православие;
- 5) закрытие Горы-Горецкого земледельческого института;
- 6) усиление политики «разбора» шляхты.

Ответ: _____

4.2. Определите характерные черты аграрной (крестьянской) реформы 1861 г.:

- 1) ликвидация крупного помещичьего землевладения;
- 2) временнообязанное положение крестьян до заключения выкупного соглашения;
- 3) реализация «американского» пути развития капитализма в сельском хозяйстве;
- 4) передача земли крестьянам в собственность без выкупа;
- 5) выдача государственной ссуды крестьянам на выкуп земли;
- 6) переселение малоземельных крестьян в Сибирь.

Ответ: _____

4.3. Белорусская социалистическая громада (БСГ) выступала за:

- 1) свержение самодержавия в России;
- 2) восстановление Речи Посполитой в границах 1772 г.;
- 3) равноправие людей независимо от пола, национальности и вероисповедания;
- 4) установление конституционной монархии;
- 5) сохранение единой и неделимой России;
- 6) передачу земли из частной собственности в общественную.

Ответ: _____

Задание 5

Установите соответствие. Ответ запишите в виде сочетания букв и цифр, соблюдая алфавитную последовательность букв левого столбца, например: А1БЗВ4 (для 5.1–5.2) или А13Б25 (для 5.3). Помните, что некоторые данные правого столбца могут не использоваться.

5.1.

А) директор Белорусского государственного музея, автор «Истории белорусской (кривской) книги»	1) В. И. Пичета
Б) первый президент Белорусской академии наук	2) А. Г. Червяков
В) первый ректор Белорусского государственного университета	3) В. М. Игнатовский
	4) В. У. Ластовский
	5) А. А. Смолич

Ответ: _____

5.2.

А) принятие Декларации об объединении Социалистических Советских Республик Литвы и Беларуси	1) 21 февраля 1918 г.
Б) принятие Второй Уставной грамоты	2) 9 марта 1918 г.
В) принятие Декларации о провозглашении независимости Социалистической Советской Республики Беларуси (ССРБ)	3) 3 февраля 1919 г.
	4) 31 июля 1920 г.
	5) 31 июля 1921 г.

Ответ: _____

5.3.

А) политика «военного коммунизма»	1) свободный выбор форм землепользования
Б) новая экономическая политика	2) национализация промышленности
	3) введение всеобщей трудовой повинности
	4) введение продналога
	5) создание машинно-тракторных станций
	6) раскулачивание

Ответ: _____

Задание 6

Заполните пропуски подходящими по смыслу словами и датами из предложенного списка, мысленно вставляя слова в нужной форме. Ответ запишите в виде сочетания букв и цифр, например: А2Б5В8Г6.

6.1.

В результате выполнения четвертой пятилетки был создан ряд новых отраслей машиностроения, в том числе автомобильная и тракторная. В **А)** ... году были выпущены первые автомобили-самосвалы МАЗ-205 на Минском автомобильном заводе. Начался серийный выпуск тракторов на Минском тракторном заводе, а в **Б)** ... году с его главного конвейера сошел первый колесный трактор «Беларусь». Белорусский автомобильный завод в **В)** ... году начал выпуск первых самосвалов БелАЗ в городе **Г)**

- 1) 1947;
- 2) 1950;
- 3) 1953;
- 4) 1958;
- 5) 1960;
- 6) Жодино;
- 7) Минск;
- 8) Жлобин.

Ответ: _____

6.2.

Тема Великой Отечественной войны стала одной из главных в белорусской литературе, в том числе в творчестве **А)** ... – автора всемирно известных, переведенных на многие языки мира повестей. Среди них – «Знак беды», **Б)** ... , «Журавлиный крик». Партизанской борьбе на оккупированной территории Беларуси посвящены произведения писателя **В)** ... ; снятая по его произведениям художественная кинолента «Иди и смотри» была определена как один из лучших фильмов о Второй мировой войне. Первым белорусским «партизанским» романом стало произведение **Г)** ... И. Шамякина.

- 1) И. Мележ;
- 2) В. Быков;
- 3) А. Адамович;
- 4) В. Короткевич;
- 5) «Альпийская баллада»;
- 6) «Полесская хроника»;
- 7) «Глубокое течение»;
- 8) «Хатынская повесть».

Ответ: _____

6.3.

Важную роль в процессе становления и закрепления государственного суверенитета Республики Беларусь сыграли республиканские референдумы. По результатам референдума А) ... года принята современная государственная символика.

На референдуме Б) ... года было поддержано предложение Президента о перенесении Дня Независимости Республики Беларусь на 3 июля – день освобождения Минска от гитлеровских захватчиков в Великой Отечественной войне. Согласно Конституции Республики Беларусь (с изменениями и дополнениями, принятыми на данном республиканском референдуме) главой государства является Президент, представительным и законодательным органом власти является Парламент – В) Избрание депутатов Г) ... осуществляется всем населением республики, обладающим избирательными правами.

- 1) 15 марта 1994;
- 2) 14 мая 1995;
- 3) 24 ноября 1996;
- 4) Национальное собрание Республики Беларусь;
- 5) Совет Министров Республики Беларусь;
- 6) Всебелорусское народное собрание;
- 7) Совет Республики;
- 8) Палата представителей.

Ответ: _____

Задание 7

Установите последовательность событий. Ответ запишите цифрами, соблюдая полученную последовательность, например: 3124 (для 7.1–7.2) или 123456 (для 7.3).

7.1.

- 1) первое упоминание Менска (Минска) в летописи;
- 2) первое упоминание Берестья в летописи;
- 3) первое упоминание Турова в летописи;
- 4) первое упоминание Полоцка в летописи.

Ответ: _____

7.2.

- 1) Островское соглашение;
- 2) битва на реке Ворскла;
- 3) Салинское соглашение;
- 4) Грюнвальдская битва.

Ответ: _____

7.3.

- 1) создание Всеобщего еврейского рабочего союза в Литве, Польше и России (Бунд);
- 2) окончательное оформление Белорусской социалистической громады (БСГ);
- 3) издание газеты «Наша Ніва»;
- 4) создание белорусскими студентами-народниками группы «Гомон»;
- 5) создание Российской социал-демократической рабочей партии (РСДРП);
- 6) начало первой буржуазно-демократической революции в России.

Ответ: _____

Задание 8

Установите исторические понятия по их определению. Ответ запишите словом (или словами) в той форме (род, число, падеж), в которой оно должно быть употреблено в предложении.

8.1.

Частично свободный земледелец на Руси. Обладал личной свободой, однако земля, на которой он трудился, принадлежала князю, – это

Ответ: _____

8.2.

Выборный административный и судебный орган городского самоуправления в городах, получивших магдебургское право, – это

Ответ: _____

8.3.

Расстрел царскими войсками и полицией митинга трудящихся на площади около Виленского вокзала в Минске 18 октября 1905 г. – это

Ответ: _____

8.4.

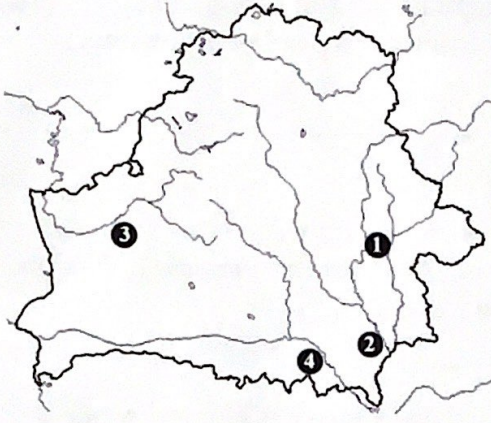
Демократический принцип, обеспечивающий открытость работы органов управления, доступность для общественности сведений об их деятельности, в первую очередь с помощью средств массовой информации, возможность реализовывать демократические свободы слова и печати, – это

Ответ: _____

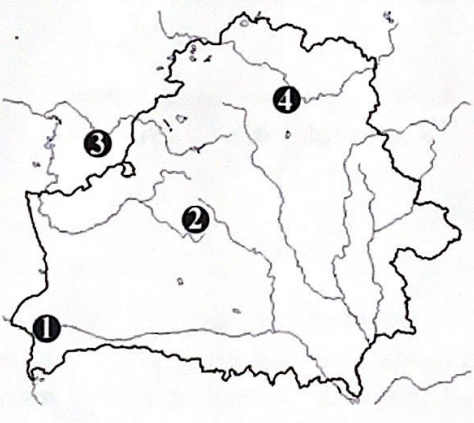
Задание 9

Выполните задания по картосхемам. Ответ запишите цифрой.

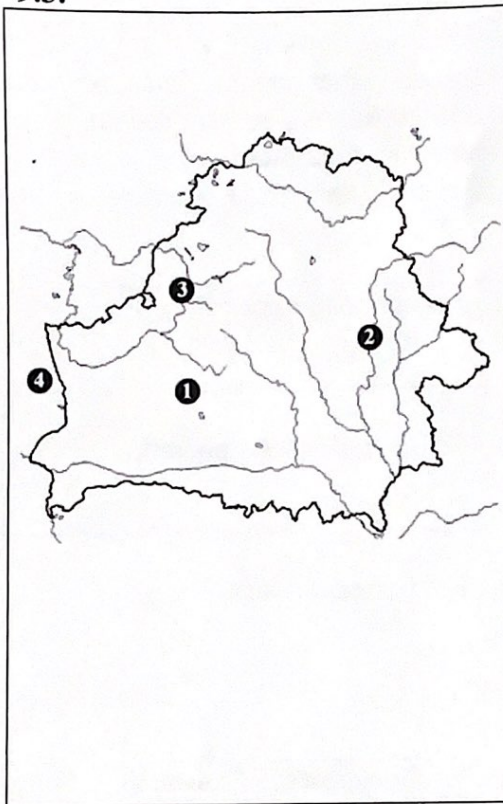
9.1.

	<p>1) Место, где обнаружено городище железного века, обозначено на картосхеме цифрой:</p> <p>Ответ: _____</p> <p>2) Место, где обнаружены древние кремнедобывающие шахты, обозначено на картосхеме цифрой:</p> <p>Ответ: _____</p> <p>3) Место находок орудий труда неандертальцев обозначено на картосхеме цифрой:</p> <p>Ответ: _____</p>
---	---

9.2.

	<p>1) Место, где начала действовать первая на современной территории Беларуси типография, обозначено на картосхеме цифрой:</p> <p>Ответ: _____</p> <p>2) Место, где находилась типография, основанная на средства братьев Мамоничей, в которой был издан Статут ВКЛ 1588 г., обозначено на картосхеме цифрой:</p> <p>Ответ: _____</p> <p>3) Место издания первой на современной территории Беларуси книги на старобелорусском языке обозначено на картосхеме цифрой:</p> <p>Ответ: _____</p>
---	--

9.3.



1) Место расположения с августа 1915 г. Ставки Верховного главнокомандующего обозначено на картосхеме цифрой:

Ответ: _____

2) Место, где германские войска впервые на Восточном фронте использовали ядовитый газ, обозначено на картосхеме цифрой:

Ответ: _____

3) Место расположения крепости, героической обороной которой в июле – августе 1915 г. руководил выпускник Полоцкого кадетского корпуса генерал Николай Александрович Бржозовский, обозначено на картосхеме цифрой:

Ответ: _____

Задание 10

Изучите выдержки из документов и ответьте на вопросы.

10.1.

«И встретились противники ... месяца марта в 3-й день; и был снег велик, и пошли друг на друга. И была сеча жестокая, и многие пали в ней, и одолели Изяслав, Святослав, Всеволод, Всеслав же бежал...»

1. О какой битве идет речь?

Ответ: _____

2. В каком году она произошла?

Ответ: _____

3. Какой город впервые упоминается в летописи в связи с битвой?

Ответ: _____

10.2.

«Я убежден, что если бы со времени присоединения к России забранных польских земель была из них образована одна провинция, сохранено имя Литвы и оставлены ее давние права и если бы из нее был создан отдельный край со своим управлением, но в качестве соединенного и включенного в состав Российской империи государства, то тогда иноземное влияние проникало бы туда с трудом».

1. Под каким названием вошел в историю данный проект?

Ответ: _____

2. Накануне какого события был подготовлен данный проект?

Ответ: _____

3. Кому из российских императоров он был представлен?

Ответ: _____

10.3.

«Часовае Работніча-Сялянская Правіцельства Савецкай Беларускай Незалежнай Рэспублікі абвяшчае перад усім сьветам: 1) З гэтаго момэнту ўся ўласць на Беларусі прыналежыць толькі Саветам работнічых, сялянскіх, батрацкіх і чырвонаармейскіх дэпутатаў...»

1. Как называется документ, выдержка из которого приведена?

Ответ: _____

2. Когда он был обнародован (укажите точную дату)?

Ответ: _____

3. Кто является его автором?

Ответ: _____

4. Под каким псевдонимом получил известность в литературе автор данного документа?

Ответ: _____

История Беларуси

Задание 1

Только один из предложенных вариантов ответа является верным. Запишите соответствующую ему цифру в отведенной для этого строке.

1.1. В древности на территории Беларуси к занятиям присваивающего хозяйства относилась(-ось):

- 1) торговля;
- 2) животноводство;
- 3) ремесло;
- 4) собирательство;
- 5) земледелие.

Ответ: _____.

1.2. Лично свободные земледельцы, которые работали на земле князя, платили ему дань и должны были отправляться на войну на собственных лошадях:

- 1) людины;
- 2) смерды;
- 3) закупы;
- 4) челядь;
- 5) рядовичи.

Ответ: _____.

Задание 2

Только один из предложенных вариантов ответа является верным. Запишите соответствующую ему цифру в отведенной для этого строке.

2.1. Князь Герцике, который в начале XIII века вёл борьбу с крестоносцами:

- 1) Владимир;
- 2) Вячко;
- 3) Всеволод;
- 4) Яков;
- 5) Андрей.

Ответ: _____.

2.2. Епархия в Полоцком княжестве была основана около:

- 1) 988 г.;
- 2) 992 г.;
- 3) 998 г.;
- 4) 1005 г.;
- 5) 1015 г.

Ответ: _____.

2.3. Великий князь литовский, коронация которого произошла в 1253 г. в Новогородке (Новогрудке):

- 1) Войшелк;
- 2) Тройнат;
- 3) Гедимин;
- 4) Витень;
- 5) Миндовг.

Ответ: _____.

2.4. Город, основанный в 1289 г. волынским князем Владимиром, где была возведена «башня высотой в 17 сажень, достойная удивления всех, кто ее видит»:

- 1) Каменец;
- 2) Кобрин;
- 3) Дрогичин;
- 4) Мельник;
- 5) Слоним.

Ответ: _____.

Задание 3

Несколько из предложенных вариантов ответа являются верным. Запишите соответствующие им цифры в отведенной для этого строке.

3.1. Представители власти в городах с магдебургским правом:

- 1) войт;
- 2) каштелян;
- 3) гетман;
- 4) бурмистр;
- 5) канцлер;
- 6) подскарбий.

Ответ: _____.

3.2. Великие князья литовские, которые боролись за власть в ходе гражданской войны 1432-1439 гг.:

- 1) Витовт;
- 2) Ягайло;
- 3) Кейстут;
- 4) Сигизмунд;
- 5) Ольгерд;
- 6) Свидригайло.

Ответ: _____.

3.3. Реформы, которые были проведены Сигизмундом II Августом в середине XVI века:

- 1) военная;
- 2) цензурная;
- 3) школьная;
- 5) налоговая;
- 6) земская.

Ответ: _____.

Задание 4

Несколько из предложенных вариантов ответа являются верным. Запишите соответствующие им цифры в отведенной для этого строке.

4.1. Отработочная система хозяйствования в 1860-1870-е годы господствовала в губерниях:

- 1) Виленской;
- 2) Витебской;
- 3) Гродненской;
- 4) Могилёвской;
- 5) Курляндской;
- 6) Ковенской.

Ответ: _____.

4.2. Представителями революционного народничества на территории Беларуси были:

- 1) Никита Муравьев;
- 2) Николай Судзиловский;
- 3) Франц Савич;
- 4) Сергей Муравьев-Апостол;
- 5) Арон Кремер;
- 6) Игнатий Гриневицкий.

Ответ: _____.

4.3. Политические партии, которые в ходе революции 1905-1907 гг. выступали за установление ограниченной монархии и парламентского строя:

- 1) эсеры;
- 2) большевики;
- 3) меньшевики;
- 4) бундовцы;
- 5) кадеты;
- 6) октябристы.

Ответ: _____.

4.4. Белорусскими историками, которые работали в конце XIX-начале XX вв. были:

- 1) Вацлав Ластовский;
- 2) Якуб Наркевич-Иодко;
- 3) Франтишек Бокушевич;
- 4) Митрофан Довнар-Запольский;
- 5) Иван Неслуховский;
- 6) Игнат Буйницкий.

Ответ: _____.

Задание 5

Вставьте на места пропусков подходящие по смыслу слова, словосочетания, даты из предложенного списка. Выбирайте их последовательно, мысленно вставляя слова в нужной форме. Ответ запишите в виде сочетания букв и цифр. Например: А2Б6.

5.1. С 26 ноября 1917 г. по 2 января 1919 г. на территории Витебской, Могилевской, Минской и в не оккупированных германскими войсками частях Виленской, Смоленской губерний действовал первый высший законодательный орган советской гласит – А) Одним из руководителей с января и до конца 1918 г. был Б)

- 1) Облискомзап
- 2) СНК Западной области и фронта
- 3) ВРК Западной области и фронта
- 4) А. Мясников
- 5) В. Кнорин
- 6) М. Фрунзе

Ответ: _____.

5.2. После разгона Всебелорусского съезда часть его депутатов провела подпольное заседание. На нём был создан Исполнительный комитет Рады Всебелорусского съезда, который А) ... года обратился к народу Беларуси с Первой Уставной грамотой, в которой провозгласил себя временной властью на территории Беларуси. В грамоте провозглашалось право белорусского народа на самоопределение. Было создано правительство – Б)

- 1) 9 марта 1918
- 2) 25 марта 1918
- 3) 21 февраля 1918
- 4) Всебелорусский Совет крестьянских, солдатских и рабочих депутатов
- 5) Народный секретариат Беларуси
- 6) Рада Белорусской Народной Республики.

Ответ: _____.

5.3. В марте А) ... года советским руководством было принято решение о введении новой экономической политики. Продразвёрстка была заменена натуральным продналогом, крестьянам предоставлялась свобода торговли, узаконивалась кооперация. Народным комиссаром земледелия БССР в годы нэпа был уроженец Витебщины Б)

- 1) 1920
- 2) 1921
- 3) 1923
- 4) Д. Прищепов
- 5) И. Адамович
- 6) Н. Низовцев

Ответ: _____.

5.4. 30 декабря А) ... года делегации советских республик, собравшиеся в Москве на I Всесоюзном съезде Советов, подписали Декларацию и Договор об образовании СССР. Съезд выбрал верховный законодательный орган Союза – Центральный исполнительный комитет СССР. Его председателем от Беларуси был избран Б)

- 1) 1920
- 2) 1922
- 3) 1923
- 4) А. Червяков
- 5) Д. Жилунович
- 6) Н. Гикало

Ответ: _____.

5.5. В результате государственного переворота А) ... года в Польше, в том числе в Западной Беларуси, был установлен режим личной власти Юзефа Пилсудского, опиравшейся на военную силу. В 1934 г. по распоряжению польских властей был создан концентрационный лагерь в Б)

- 1) 1921
- 2) 1924
- 3) 1926
- 4) Береза-Картузская
- 5) Раков (Молодецкий)
- 6) Кожан-Городок

Ответ: _____.

Задание 6

Вставьте на места пропусков подходящие по смыслу слова, словосочетания, даты из предложенного списка. Выбирайте их последовательно, мысленно вставляя слова в нужной форме. Ответ запишите в виде сочетания букв и цифр. Например: А2Б6 или А2Б5И8.

- 6.1. В А) ... году на заседании Верховного Совета БССР был утвержден Государственный гимн БССР, который использовался до 1991 г. Его авторами стали поэт Б) ... и композитор Н.Соколовский.

- | | |
|---------|-----------------|
| 1) 1951 | 4) П. Панченко |
| 2) 1953 | 5) М. Климкович |
| 3) 1955 | 6) Г. Буравкин |

Ответ: _____.

- 6.2. Определяющим в индустриальном развитии Беларуси первых послевоенных лет стал курс на опережающий рост тяжелой промышленности. В результате выполнения четвертой пятилетки был создан ряд новых отраслей машиностроения, в том числе автомобильная и тракторная. В А) ... году были выпущены первые автомобили-самосвалы МАЗ-205 на Минском автомобильном заводе. Начался серийный выпуск тракторов на Минском тракторном заводе, ав 1953 г. с его главного конвейера сошел первый колесный трактор Б)

- 1) 1947
- 2) 1948
- 3) 1950
- 4) "Кировец"
- 5) "Путиловец"
- 6) "Беларусь"

Ответ: _____.

- 6.3. Коммунистическая партия Беларуси в соответствии с шестой статьей Конституции БССР А) ... года провозглашалась руководящей и направляющей силой в обществе, ядром политической системы. Первым секретарем ЦК КПБ в 1965-1980 гг., а значит, фактически главой республики, был Б)

- 1) 1927
- 2) 1937
- 3) 1978
- 4) К. Мазуров
- 5) П. Машеров
- 6) Т. Киселёв

Ответ: _____.

- 6.4. На встрече Президента Российской Федерации Б.Н. Ельцина, Президента Украины Л.М. Кравчука и председателя Верховного Совета Республики Беларусь А) ... 8 декабря 1991 г. было определено, что «Союз ССР как субъект международного права и геополитическая реальность прекращает свое существование». Одновременно состоялось подписание Соглашения о создании Б) ..., представляющего собой межправительственную региональную организацию. Достигнутая договоренность получила название В)

- | | | |
|----------------|---------|-----------------------------|
| 1) В. Кебич | 4) ОБСЕ | 7) «Беловежское соглашение» |
| 2) С. Шушкевич | 5) ЕАЭС | 8) «Московское соглашение» |
| 3) Н. Дементей | 6) СНГ | 9) «Минское соглашение» |

Ответ: _____.

- 6.5. Особое место во внешней политике Беларуси занимают взаимоотношения с Россией. А) ... года на республиканском референдуме большинство белорусских избирателей высказалось в поддержку курса на экономическую интеграцию с Российской Федерацией. 2 апреля 1996 г. был подписан Договор о создании Б) ... Беларуси и России. Беларусь вместе с Россией, Арменией, Казахстаном, Кыргызстаном, Таджикистаном участвует в В) ... - межправительственной региональной военно-политической организации.

- | | | |
|-------------------|------------------------|---------|
| 1) 17 марта 1991 | 4) Союз | 7) ОДКБ |
| 2) 14 мая 1995 | 5) Сообщество | 8) ВОИС |
| 3) 24 ноября 1996 | 6) Союзное государство | 9) ИИТО |

Ответ: _____.

Задание 7

Установите соответствие. Ответ запишите в виде сочетания букв и цифр, соблюдая алфавитную последовательность букв, например, А1Б3В4 или А1Б3В4Г8. Помните, что некоторые данные правого столбца могут не использоваться.

7.1.

Место битвы	Год
А) река Судомирь	1) 1019
Б) река Немига	2) 1021
В) река Нева	3) 1054
	4) 1067
	5) 1127
	6) 1240

Ответ: _____.

7.2.

Великий князь литовский	Характеристика деятельности
А) Ольгерд	1) инициировал издание I Статуса ВКЛ
Б) Гедимин	2) потерпел поражение в битве на реке Ворскла
В) Ягайло	3) увеличил территорию ВКЛ в два раза
	4) перенес столицу из Новгородка (Новогрудка) в Вильню
	5) заключил Кревскую унию с Польшей
	6) основал белорусско-литовское государство

Ответ: _____.

7.3.

Историческое событие	Год
А) Ям-Запольское перемирие	1) 1615 5) 1709
Б) Поляновское перемирие	2) 1629 6) 1618
В) перемирие в Альтмарке	3) 1667 7) 1721
Г) Деулинское перемирие	4) 1634 8) 1582

Ответ: _____.

7.4.

Историческое событие	Характеристика деятельности
А) А. Кижеватов	1) совершил таран немецкой военной колонны под Радошковичами
Б) Н. Гастелло	2) организовал защиту Могилёва
В) И. Руссиянов	3) командовал батареей реактивных миномётов («катюш»)
Г) С. Кутепов	4) сформировал партизанский отряд в Суражском районе
	5) организовывал оборону пограничной заставы Брестской крепости
	6) руководил Белорусским штабом партизанского движения
	7) возглавлял подпольную организацию Витебска
	8) руководил обороной Минска
А) Ям-Запольское перемирие	1) 1615 5) 1709
Б) Поляновское перемирие	2) 1629 6) 1618
В) перемирие в Альтмарке	3) 1667 7) 1721
Г) Деулинское перемирие	4) 1634 8) 1582

Ответ: _____.

Задание 8

Установите последовательность событий. Ответ запишите цифрами, соблюдая полученную последовательность, например: 3124.

8.1.

- 1) правление Всеслава Чародея в Полоцке;
- 2) правление Брячислава в Полоцке;
- 3) правление Изяслава в Полоцке;
- 4) правление Рогволода в Полоцке.

Ответ: _____.

8.2.

- 1) Островское соглашение;
- 2) Городельская уния;
- 3) Салинское соглашение;
- 4) Торуньский мирный договор.

Ответ: _____.

8.3.

- 1) первый раздел Речи Посполитой;
- 2) создание Слуцкой православно-протестантской конфедерации;
- 3) решение сейма Речи Посполитой об уравнивании в правах диссидентов с католиками;
- 4) создание Барской католической конфедерации.

Ответ: _____.

8.4.

- 1) освобождение от немецко-фашистских захватчиков Минска;
- 2) освобождение от немецко-фашистских захватчиков Гомеля;
- 3) освобождение от немецко-фашистских захватчиков Витебска;
- 4) освобождение от немецко-фашистских захватчиков Бреста.

Ответ: _____.

Задание 9

Изучите портреты и фотографии, ответьте на вопросы и выполните задания.

9.1.




1. Укажите деятеля культуры, изображенного на портрете.
Ответ: _____.
2. К какому веку относится творчество данного деятеля культуры.
Ответ: _____.
3. Назовите город, в котором при жизни данного деятеля культуры ставились спектакли по авторским песням.
Ответ: _____.

9.2.



1. Укажите политического деятеля изображенного на портрете.
Ответ: _____.
2. Заполните пропуск в предложении: «Изображенный на портрете исторический деятель, а также князь Ф. Любецкий и граф Л. _____ разработали проект «Положения о правлении автономным Великим Княжеством Литовским».
Ответ: _____.
3. Назовите имя российского императора, которому в 1812 г. был направлен проект «Положения о правлении автономным Великим Княжеством Литовским».
Ответ: _____.

9.3.



1. Запишите фамилию представленного на фотографии ученого.
Ответ: _____.
2. В области какой науки указанный на фотографии ученый стал лауреатом Нобелевской премии?
Ответ: _____.
3. Заполните пропуск в предложении: «Представленный на фотографии ученый был награжден орденом Франциска Скорины, стал почетным гражданином Минска и _____».
Ответ: _____.

Задание 10

Изучите тексты, ответьте на вопросы и выполните задания.

10.1.

<p>«Горе мне, бедной! Горе мне несчастной! Ах, со всех сторон ограбленной... Горе мне, обремененной невыносимой тяжестью! Горе мне в селах и городах, горе мне в горах и пропастях земных. Нигде нет ни спокойного места, ни безопасного пристанища... О епископы, епископы! О сыновья, что презрели отца и мать!.. Доколе вы будете спать беспробудным сном?»</p>	<p>1. Запишите фамилию автора произведения, из которого взят указанный фрагмент. Ответ: _____.</p> <p>2. Запишите название произведения, из которого взят указанный фрагмент. Ответ: _____.</p> <p>3. Как звали униатского митрополита, который по словам автора указанного произведения осуществлял нападение на православные церкви и монастыри в Вильно? Ответ: _____.</p>
--	---

10.2.

<p>«Белорусский язык так самостоятелен... предания, поверья и сказки его так оригинальны... что... становится необходимым исследовать и изыскать главный приют древней русской славяницы и познакомиться отчетливо с родоначальными ее элементами, сохранившимися в Белоруссии; изучая белорусский язык ... мы изучаем язык, понятия и верования своих предков»</p>	<p>1. Запишите фамилию автора произведения, из которого взят указанный фрагмент. Ответ: _____.</p> <p>4. Запишите название произведения, из которого взят указанный фрагмент. Ответ: _____.</p> <p>5. На какой век приходится деятельность автора указанного произведения? Ответ: _____.</p>
---	--

10.3.

<p>«ООН – это мы. Именно мы с вами должны взять судьбу планеты в свои руки. Мы с вами должны понять, что однополярный мир – это мир однолинейный. Более того – одномерный. Мы с вами должны осознать... Свобода выбора пути развития – главное условие демократического устройства мира. Ради этого и создавалась наша Организация. Если мы согласимся друг с другом в этом, главном, то мы воплотим принципы многополярности, многообразия, свободы выбора... Тогда и ООН станет организацией настоящей объединенных наций...»</p>	<p>1. Запишите фамилию политического деятеля, который является автором данного текста. Ответ: _____.</p> <p>2. В каком году Беларусь стала членом Организации Объединенных Наций? Ответ: _____.</p> <p>3. Запишите название города, в котором в 1992 году проходила конференция ООН по окружающей среде и развитию. Ответ: _____.</p> <p>4. Как называется документ который подписала Республика Беларусь в 2000 г. на саммите ООН в Нью-Йорке? Ответ: _____.</p>
---	---